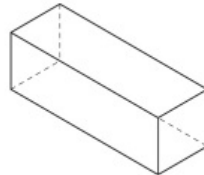
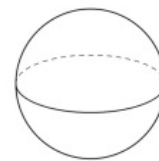
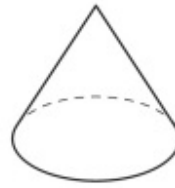
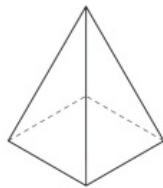


Geometrische Körper



	Würfel	Quader	Zylinder
Ecken			
Kanten			
Flächen			



	Pyramide	Kegel	Kugel
Ecken			
Kanten			
Flächen			

Kreuze alle geometrischen Körper an:

Richtig oder falsch? Kreuze an.

- Quadrat
- Kreis
- Würfel
- Kegel
- Quader

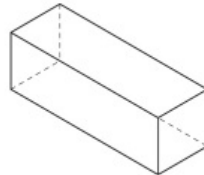
	R	F
Ein Quader und ein Würfel haben gleich viele Kanten.		
Ein Kegel kann rollen und kippen.		
Ein Zylinder hat keine kreisförmigen Flächen.		



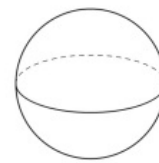
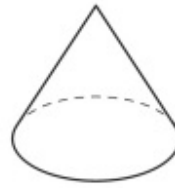
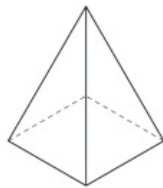
Rätsel: Ich habe genauso viele Ecken wie Flächen. Wer bin ich?

Geometrische Körper

LÖSUNG



	Würfel	Quader	Zylinder
Ecken	8	8	0
Kanten	12	12	2
Flächen	6	6	3



	Pyramide	Kegel	Kugel
Ecken	5	1	0
Kanten	8	1	0
Flächen	5	2	1

Kreuze alle geometrischen Körper an:

Richtig oder falsch? Kreuze an.

- Quadrat
- Kreis
- Würfel
- Kegel
- Quader

	R	F
Ein Quader und ein Würfel haben gleich viele Kanten.	x	
Ein Kegel kann rollen und kippen.	x	
Ein Zylinder hat keine kreisförmigen Flächen.		x



Ich habe genauso viele Ecken wie Flächen. Wer bin ich? Antwort: Die Pyramide.